



PREFEITURA DO MUNICÍPIO DE TIMBURI
Estado de São Paulo
Secretaria Municipal de Educação



EMEF PROFª GILDA ZANFORLIN DOS REIS THOSI

ATIVIDADES À DISTÂNCIA 2º ANO

DATA: 28/04



Vamos dar sequência às nossas atividades? Executem as seguintes tarefas com os pequenos, do mesmo modo que vocês vêm realizando.

ATIVIDADE 1

QUAL É A LETRA?

1- QUAL É A LETRA OCULTA ATRÁS DE CADA DESENHO?
DESCUBRA E ESCREVA NO QUADRINHO.

A-B-C-D-E-F-G-H-I-J-K-L-M
N-O-P-Q-R-S-T-U-V-W-X-Y-Z





PREFEITURA DO MUNICÍPIO DE TIMBURI
Estado de São Paulo
Secretaria Municipal de Educação



ATIVIDADE 2

FORMANDO PALAVRAS

¹ BA	² BO	³ FU	⁴ DO	⁵ LA
⁶ CU	⁷ MA	⁸ PI	⁹ NE	¹⁰ TA
¹¹ CE	¹² PO	¹³ ÇA	¹⁴ VE	¹⁵ PE
¹⁶ FI	¹⁷ LA	¹⁸ TE	¹⁹ BA	²⁰ CA

1-5

2-9-20

6-2

3-7-13

4-11

8-12-20

10-15-18

16-14-17



ATIVIDADE 3


O PALHAÇO PAÇOCA

WENIDARC CINTRA

EU CONHEÇO UM PALHAÇO.
SEU NOME É PAÇOCA.
ELE É UM BOM MOÇO
E MORA NA ROÇA.

TODA TERÇA VAI À CIDADE
TRABALHAR NA PRAÇA.
FAZ MÁGICAS, PALHAÇADA,
TUDO DE GRAÇA!

NÃO TIRA O CHAPÉU DA CABEÇA.
USA CALÇA LARGA E ENGRAÇADA.
ALEGRA MUITAS PESSOAS.
AMA A CRIANÇA DA!



D ESENHE O PALHAÇO PAÇOCA:



PREFEITURA DO MUNICÍPIO DE TIMBURI
Estado de São Paulo
Secretaria Municipal de Educação




ATIVIDADE 4



ESCOLA: _____
TURMA: _____ PROFESSOR(A): _____
EU SOU: _____

1- PROCURE E CIRCULE NA POESIA, TODAS AS PALAVRAS QUE RIMAM.



A FLOR AMARELA

OLHA A JANELA
DA BELA ARABELA
QUE FLOR É AQUELA
QUE ARABELA MOLHA?
É UMA FLOR AMARELA.


CECÍLIA MEIRELES.



2- COMPLETE A POESIA COM AS PALAVRAS QUE ESTÃO FALTANDO:

A FLOR AMARELA

OLHA A _____
DA BELA _____
QUE FLOR É _____
QUE _____ MOLHA?
É UMA FLOR _____





PREFEITURA DO MUNICÍPIO DE TIMBURI
Estado de São Paulo
Secretaria Municipal de Educação



ATIVIDADE 5

OBSERVE OS NUMERAIS E
COMPLETE COM O QUE É
PEDIDO. VOCÊ É CAPAZ!



1-QUEM VEM ANTES?

<input type="text"/>	← 7	<input type="text"/>	← 2	<input type="text"/>	← 9
----------------------	-----	----------------------	-----	----------------------	-----

2-QUEM VEM DEPOIS?

4 →	<input type="text"/>	2 →	<input type="text"/>	0 →	<input type="text"/>
-----	----------------------	-----	----------------------	-----	----------------------

3-QUEM ESTÁ ENTRE?










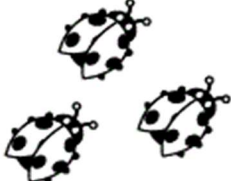
3 ←	<input type="text"/>	→ 5	7 ←	<input type="text"/>	→ 9
0 ←	<input type="text"/>	→ 2	4 ←	<input type="text"/>	→ 6
6 ←	<input type="text"/>	→ 8	1 ←	<input type="text"/>	→ 3



ATIVIDADE 6

VAMOS SOMAR

Depois de somar que tal pintar as figuras com suas cores prediletas?

HAVIAM	CHEGARAM	TOTAL
		$\begin{array}{r} 4 \\ + 3 \\ \hline 7 \end{array}$
		$\begin{array}{r} \dots\dots \\ + \dots\dots \\ \hline \dots\dots \end{array}$
		$\begin{array}{r} \dots\dots \\ + \dots\dots \\ \hline \dots\dots \end{array}$
		$\begin{array}{r} \dots\dots \\ + \dots\dots \\ \hline \dots\dots \end{array}$
		$\begin{array}{r} \dots\dots \\ + \dots\dots \\ \hline \dots\dots \end{array}$













PREFEITURA DO MUNICÍPIO DE TIMBURI
Estado de São Paulo
Secretaria Municipal de Educação



ATIVIDADE 7

Name: _____

 $9 - 2 = \square$	 $9 - 4 = \square$
 $9 - 6 = \square$	 $9 - 3 = \square$
 $9 - 0 = \square$	 $8 - 7 = \square$
 $8 - 3 = \square$	 $8 - 1 = \square$
 $8 - 8 = \square$	 $8 - 5 = \square$

© From the Forest



PREFEITURA DO MUNICÍPIO DE TIMBURI
Estado de São Paulo
Secretaria Municipal de Educação



ATIVIDADE 8

CONTANDO E REGISTRANDO

1- QUANTOS SÃO?.



Mamãe, obrigada pela ajuda e compreensão, se quiser filmar ou fotografar seu filho realizando as atividades e nos enviar, mas se preferir pode publicar direto no Facebook e marcar a Secretaria Municipal da Educação.