



ESCOLA _____

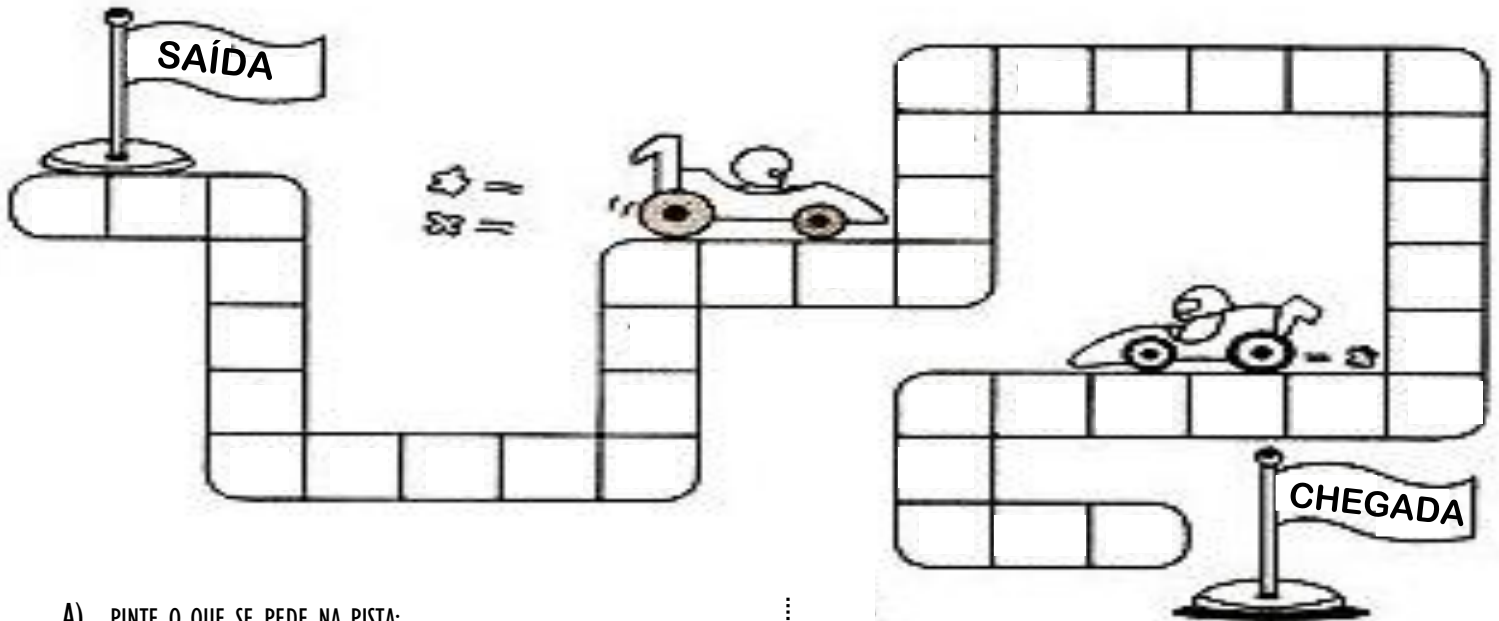
NOME COMPLETO: _____

1º ANO _____

SEMANA DE 05/10 A 09/10/2020

ATIVIDADES DE MATEMÁTICA

ATIVIDADE 1: FAÇA A SEQUÊNCIA NUMÉRICA DE 1 À 39.



A) PINTE O QUE SE PEDE NA PISTA:

- DE VERMELHO O MENOR NUMERAL.
- DE LARANJA O NUMERAL QUE VEM ANTES DO 40.
- DE AZUL O NUMERAL QUE VEM DEPOIS DO 20.
- DE VERDE O MAIOR NUMERAL.
- DE AMARELO OS NUMERAIS QUE ESTÃO ENTRE 9 E 11, 19 E 21, 29 E 31.
- DE ROXO OS NUMERAIS PARES DE 1 E 9.
- DE ROSA OS NUMERAIS ÍMPARES DE 11 E 19.


B) OBSERVE ALGUNS NUMERAIS DA SEQUÊNCIA QUE VOCÊ COMPLETOU E ESCREVA OS NOMES.

- 8 _____
- 14 _____
- 27 _____
- 32 _____
- 39 _____

ATIVIDADE 2: CRUZADINHA DA SEMANA

ENCAIXE, NA CRUZADINHA, O QUE SE PEDE ABAIXO:

- A) VEM ANTES DE QUINTA-FEIRA.
- B) É O PRIMEIRO DIA DA SEMANA.
- C) É O ÚLTIMO DIA DA SEMANA.
- D) É O PRIMEIRO DIA DE AULA DA SEMANA.
- E) VEM DEPOIS DA QUARTA-FEIRA.



ATIVIDADE 3:

TRILHA DO CÁLCULO


5
+2
-3 +5 -2
-1
-2 -2 -4 +3
+7
-6 +2 -1

ATIVIDADE 4: VEJA OS PREÇOS DE CADA OBJETO E, DEPOIS, RESPONDA:

2 reais	30 reais	70 reais	7 reais
---------	----------	----------	---------

- A) QUAL É O OBJETO MAIS BARATO? _____
- B) QUAL É O OBJETO MAIS CARO? _____
- C) QUAL É O PREÇO DA MOCHILA? _____
- D) QUAL É O PREÇO DO PIÃO E DO CADERNO JUNTOS? _____

ATIVIDADE 5: OBSERVE A CENA E FAÇA O QUE SE PEDE:



- A) PINTE OS PORCOS QUE ESTÃO **DENTRO** DO CERCADO.
- B) CIRCULE OS PATOS QUE ESTÃO **FORA** DA LAGOA.
- C) DESENHE MILHOS **DENTRO** DO BALIAO PARA OS CAVALOS QUE ESTÃO **FORA** DA BAIÁ.
- D) EM QUAL PERÍODO DO DIA ESTA CENA ACONTECE?
() DIA. () NOITE.

